

- REMUE MÉNINGES -
QUINZAINE 1

ENIGME 1

CARTABLE



Jean pèse 30 kg de plus que son cartable.
Avec son cartable sur le dos, il pèse 40 kg.
Combien pèse le cartable ?

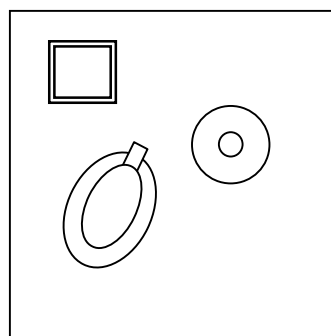
ENIGME 2

PHOTOGRAPHIES

Voici, vu de face, un vase, une bouteille, et un pichet :



Ces trois objets sont posés sur une table et voici la vue de dessus :




C


Parmi les cinq "photos" ci-dessous, quelle est celle qui a été prise du coin C ?



1




2



3



4



5