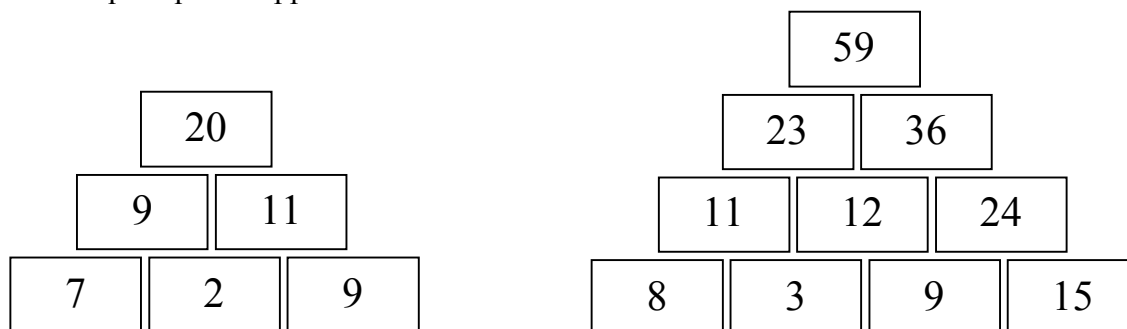


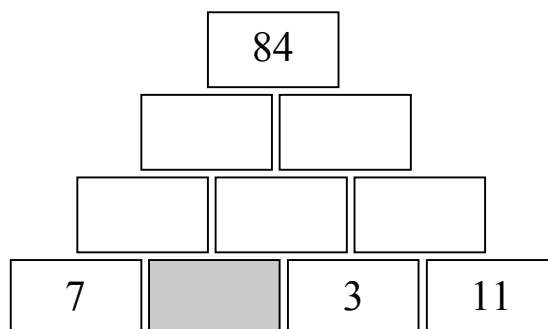
- REMUE MÉNINGES - QUINZAINE 4

ENIGME 1

DES PYRAMIDES : Examinez bien ces pyramides : sur chaque brique est inscrite la somme des deux briques qui la supportent.

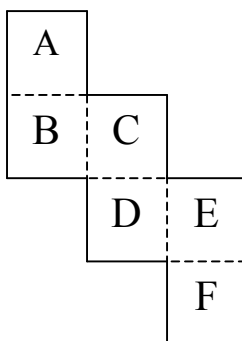


Sur la troisième pyramide, beaucoup de nombres ont été effacés. Retrouvez celui qui était dans la case grisée (il faut faire de nombreux essais !).



ENIGME 2

LE CUBE : Quand on plie selon les pointillés, on obtient un cube, quelle lettre sera sur la face opposée à F ?



Les réponses des énigmes de la quinzaine 3 :

ÉNIGME 1 : En comptant les lettres déjà présentes on trouve 29 lettres. Il faut donc que le nombre soit plus grand que trente (trente rajoute 6 lettres). **Trente-neuf convient.**

ÉNIGME 2 : Oui, on peut tracer 3 cercles différents qui passent par ces 2 points ; on peut même en tracer autant que l'on veut (une infinité !).