

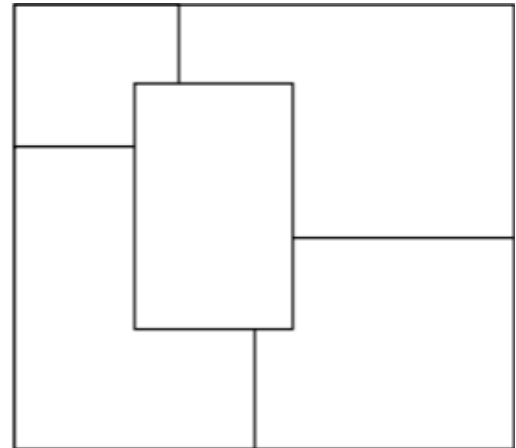
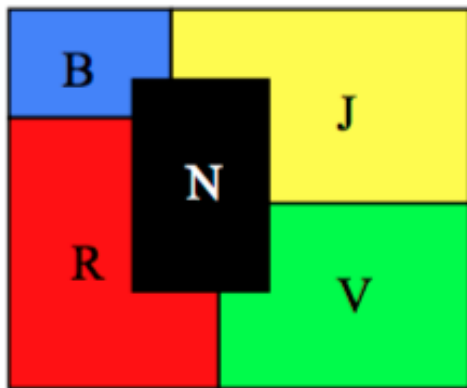
Correction devoir maison n°4

Exercice 1 : Le puzzle coloré

Commence par faire des essais en notant les noms des couleurs au crayon gris, puis utilise des crayons de couleur.

Colorie les 5 pièces du puzzle ci-dessous avec du rouge, du vert, du noir, du jaune et du bleu en respectant les règles suivantes :

- Chaque pièce n'est que d'une seule couleur.
- La pièce verte est à droite de la pièce noire.
- La pièce jaune ne touche pas le bord gauche.
- La pièce rouge ne touche pas la pièce jaune.
- La pièce verte ne touche pas la pièce bleue.



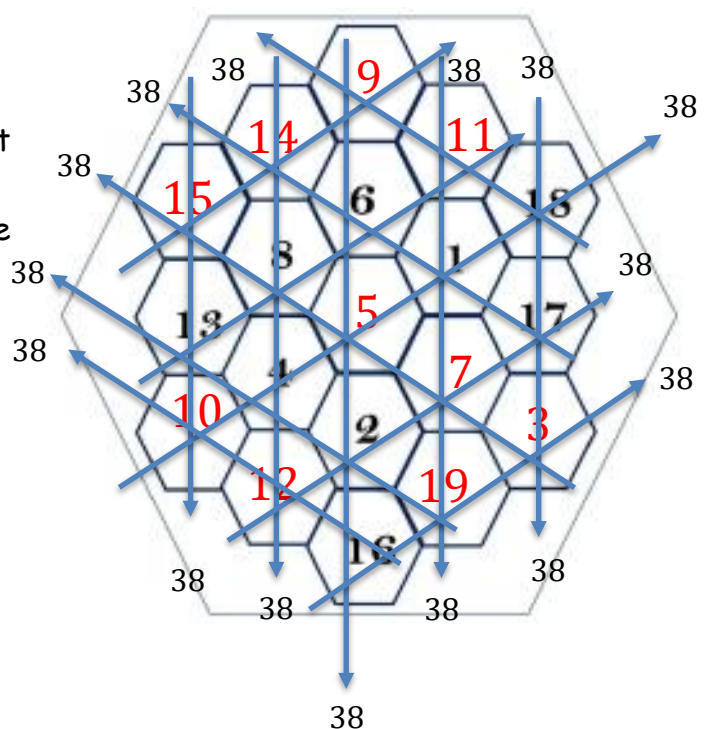
On peut aussi mettre Rouge en haut à gauche, bleu en bas à droite, Vert en haut à droite et Jaune en bas à droite.

Exercice 2 : Les hexagones

Cette grille est composée d'hexagones portant les nombres de 1 à 19.

La somme des hexagones de chaque rangée (colonne) vaut 38.






Complète les hexagones.



Exercice 3 : Le cadenas

Retrouve le code du cadenas en t'aidant des informations.

Aucune justification particulière n'est demandée. Tu as le droit d'écrire, barrer, etc... directement sur le sujet, puis complète les pointillés.

6 29	Deux chiffres corrects, mais mal placés.	
0 3 4	Aucun chiffre correct.	
3 25	Deux chiffres corrects, mais un seul bien placé.	
7 8 1	Aucun chiffre correct.	
5 0 9	Deux chiffres corrects, mais mal placés.	

<div>2</div> <div>.....</div>	<div>9</div> <div>.....</div>	<div>5</div> <div>.....</div>	
-------------------------------	-------------------------------	-------------------------------	--

Exercice 4 : Suite logique

Complète cette suite de nombres. Faire apparaître ta logique de calculs.

